

**ПРОЕКТ**

**Единый государственный экзамен по ХИМИИ**

**Демонстрационный вариант  
контрольных измерительных материалов единого  
государственного экзамена 2020 года  
по химии**

подготовлен Федеральным государственным бюджетным  
научным учреждением

«ФЕДЕРАЛЬНЫЙ ИНСТИТУТ ПЕДАГОГИЧЕСКИХ ИЗМЕРЕНИЙ»

Демонстрационный вариант ЕГЭ 2020 г.

ХИМИЯ, 11 класс. 2 / 26

**Единый государственный экзамен по ХИМИИ**

**Пояснения к демонстрационному варианту контрольных  
измерительных материалов единого государственного экзамена  
2020 года по ХИМИИ**

При ознакомлении с демонстрационным вариантом контрольных измерительных материалов (КИМ) единого государственного экзамена (ЕГЭ) 2020 г. следует иметь в виду, что задания, включённые в него, не охватывают всех элементов содержания, которые будут проверяться с помощью вариантов КИМ в 2020 г. Полный перечень элементов, которые могут контролироваться на едином государственном экзамене 2020 г., приведён в кодификаторе элементов содержания и требований к уровню подготовки выпускников образовательных организаций для проведения единого государственного экзамена 2020 г. по химии.

Назначение демонстрационного варианта заключается в том, чтобы дать возможность любому участнику ЕГЭ и широкой общественности составить представление о структуре вариантов КИМ, типах заданий и об уровнях их сложности: базовом, повышенном и высоком. Приведённые критерии оценки выполнения заданий высокого уровня сложности с развёрнутым ответом, включённые в этот вариант, дают представление о требованиях к полноте и правильности записи развёрнутого ответа.

Эти сведения позволят выпускникам выработать стратегию подготовки к ЕГЭ в 2020 г.



4 Из предложенного перечня выберите два соединения, в которых присутствует ионная химическая связь.

- 1)  $\text{Ca}(\text{ClO}_2)_2$
- 2)  $\text{HClO}_3$
- 3)  $\text{NH}_4\text{Cl}$
- 4)  $\text{HClO}_4$
- 5)  $\text{Cl}_2\text{O}_7$

Запишите в поле ответа номера выбранных соединений.

Ответ: 

--	--

5 Установите соответствие между формулой вещества и классом/группой, к которому(-ой) это вещество принадлежит: к каждой позиции, обозначенной буквой, подберите соответствующую позицию, обозначенную цифрой.

ФОРМУЛА ВЕЩЕСТВА	КЛАСС/ГРУППА
A) $\text{NH}_4\text{HCO}_3$	1) соли средние
B) KF	2) оксиды кислотные
B) NO	3) оксиды несолеобразующие
	4) соли кислые

Запишите в таблицу выбранные цифры под соответствующими буквами.

Ответ: 

А	Б	В

6 Из предложенного перечня выберите два вещества, с каждым из которых взаимодействует водород.

- 1) азот
- 2) гидроксид натрия
- 3) оксид железа(III)
- 4) хлорид кальция
- 5) серная кислота (p-p)

Запишите в поле ответа номера выбранных веществ.

Ответ: 

--	--

7 В одну из пробирок с осадком гидроксида алюминия добавили сильную кислоту X, а в другую – раствор вещества Y. В результате в каждой из пробирок наблюдали растворение осадка. Из предложенного перечня выберите вещества X и Y, которые могут вступать в описанные реакции.

- 1) бромоводородная кислота
- 2) гидросульфид натрия
- 3) сероводородная кислота
- 4) гидроксид калия
- 5) гидрат аммиака

Запишите в таблицу номера выбранных веществ под соответствующими буквами.

Ответ: 

X	Y

8 Установите соответствие между формулой вещества и реагентами, с каждым из которых это вещество может взаимодействовать: к каждой позиции, обозначенной буквой, подберите соответствующую позицию, обозначенную цифрой.

ФОРМУЛА ВЕЩЕСТВА	РЕАГЕНТЫ
A) S	1) $\text{AgNO}_3, \text{Na}_3\text{PO}_4, \text{Cl}_2$
B) $\text{SO}_3$	2) $\text{BaO}, \text{H}_2\text{O}, \text{KOH}$
B) $\text{Zn}(\text{OH})_2$	3) $\text{H}_2, \text{Cl}_2, \text{O}_2$
Г) $\text{ZnBr}_2$ (p-p)	4) $\text{HBr}, \text{LiOH}, \text{CH}_3\text{COOH}$ (p-p)
	5) $\text{H}_3\text{PO}_4$ (p-p), $\text{BaCl}_2, \text{CuO}$

Запишите в таблицу выбранные цифры под соответствующими буквами.

Ответ: 

А	Б	В	Г

- 9 Установите соответствие между исходным(и) веществом(-ами), вступающим(и) в реакцию, и продуктами, которые образуются в этой реакции: к каждой позиции, обозначенной буквой, подберите соответствующую позицию, обозначенную цифрой.

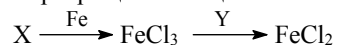
ИСХОДНЫЕ(-ОЕ) ВЕЩЕСТВА(-О)	ПРОДУКТЫ РЕАКЦИИ
А) $\text{Cu}_2\text{O}$ и $\text{HNO}_3$ (конц.)	1) $\text{N}_2$ и $\text{H}_2\text{O}$
Б) $\text{Cu}$ и $\text{HNO}_3$ (конц.)	2) $\text{Cu}(\text{NO}_3)_2$ и $\text{H}_2\text{O}$
В) $\text{Cu}(\text{OH})_2$ и $\text{HNO}_3$ (конц.)	3) $\text{NH}_3$ и $\text{HNO}_2$
Г) $\text{NH}_4\text{NO}_2 \xrightarrow{t^\circ}$	4) $\text{NH}_3$ , $\text{NO}$ и $\text{H}_2\text{O}$
	5) $\text{Cu}(\text{NO}_3)_2$ и $\text{H}_2$
	6) $\text{Cu}(\text{NO}_3)_2$ , $\text{NO}_2$ и $\text{H}_2\text{O}$

Запишите в таблицу выбранные цифры под соответствующими буквами.

Ответ:

А	Б	В	Г

- 10 Задана следующая схема превращений веществ:



Определите, какие из указанных веществ являются веществами X и Y.

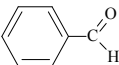
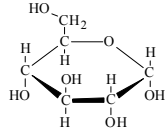
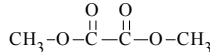
- $\text{HCl}$
- $\text{CuCl}_2$
- $\text{KI}$
- $\text{Cl}_2$
- $\text{AgI}$

Запишите в таблицу номера выбранных веществ под соответствующими буквами.

Ответ:

X	Y

- 11 Установите соответствие между формулой вещества и классом/группой органических соединений, к которому(-ой) это вещество принадлежит: к каждой позиции, обозначенной буквой, подберите соответствующую позицию, обозначенную цифрой.

ФОРМУЛА ВЕЩЕСТВА	КЛАСС/ГРУППА ОРГАНИЧЕСКИХ СОЕДИНЕНИЙ
А) 	1) углеводы
Б) 	2) альдегиды
В) 	3) карбоновые кислоты
	4) сложные эфиры

Запишите в таблицу выбранные цифры под соответствующими буквами.

Ответ:

А	Б	В

- 12 Из предложенного перечня выберите два вещества, которые являются структурными изомерами бутена-1.

- бутан
- циклобутан
- бутин-2
- бутадиен-1,3
- метилпропен

Запишите в поле ответа номера выбранных веществ.

Ответ:

--	--

- 13 Из предложенного перечня выберите два вещества, каждое из которых обесцвечивает бромную воду.

- 2,2-диметилбутан
- 2-метилбутадиен-1,3
- циклогексан
- пропин
- бензол

Запишите в поле ответа номера выбранных веществ.

Ответ:

--	--

**14** Из предложенного перечня выберите два вещества, с которыми реагирует формальдегид.

- 1) Cu
- 2) N<sub>2</sub>
- 3) H<sub>2</sub>
- 4) Ag<sub>2</sub>O (NH<sub>3</sub> p-p)
- 5) CH<sub>3</sub>OCH<sub>3</sub>

Запишите в поле ответа номера выбранных веществ.

Ответ: 

--	--

**15** Из предложенного перечня выберите два вещества, с которыми реагирует метиламин.


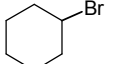
- 1) пропан
- 2) хлорметан
- 3) водород
- 4) гидроксид натрия
- 5) соляная кислота

Запишите в поле ответа номера выбранных веществ.

Ответ: 

--	--

**16** Установите соответствие между названием вещества и продуктом, который преимущественно образуется при взаимодействии этого вещества с бромом: к каждой позиции, обозначенной буквой, подберите соответствующую позицию, обозначенную цифрой.

НАЗВАНИЕ ВЕЩЕСТВА	ПРОДУКТ БРОМИРОВАНИЯ
А) этан	1) 
Б) изобутан	2) $\begin{array}{c} \text{CH}_3 \\   \\ \text{CH}_3-\text{C}-\text{CH}_3 \\   \\ \text{Br} \end{array}$
В) циклопропан	3) Br-CH <sub>2</sub> -CH <sub>2</sub> -CH <sub>2</sub> -Br
Г) циклогексан	4) $\begin{array}{c} \text{CH}_3 \\   \\ \text{CH}_3-\text{CH}-\text{CH}_2-\text{Br} \end{array}$
	5) CH <sub>3</sub> -CH <sub>2</sub> -Br
	6) 

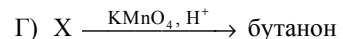
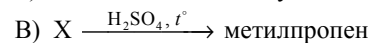
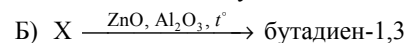
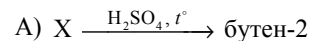
Запишите в таблицу выбранные цифры под соответствующими буквами.

Ответ: 

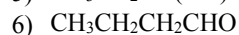
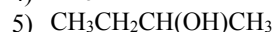
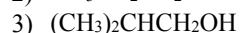
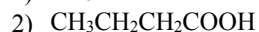
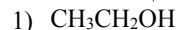
А	Б	В	Г

- 17** Установите соответствие между схемой реакции и веществом X, принимающим в ней участие: к каждой позиции, обозначенной буквой, подберите соответствующую позицию, обозначенную цифрой.

## СХЕМА РЕАКЦИИ



## ВЕЩЕСТВО X



Запишите в таблицу выбранные цифры под соответствующими буквами.

Ответ:

А	Б	В	Г

- 18** Задана следующая схема превращений веществ:



Определите, какие из указанных веществ являются веществами X и Y.

- 1) хлорэтан
- 2) этанол
- 3) этан
- 4) уксусная кислота
- 5) этиленгликоль

Запишите в таблицу номера выбранных веществ под соответствующими буквами.

Ответ:

X	Y

- 19** Из предложенного перечня типов реакций выберите два типа реакций, к которым можно отнести взаимодействие щелочных металлов с водой.

- 1) каталитическая
- 2) гомогенная
- 3) необратимая
- 4) окислительно-восстановительная
- 5) реакция нейтрализации

Запишите в поле ответа номера выбранных типов реакций.

Ответ: 

--	--

- 20** Из предложенного перечня выберите два внешних воздействия, которые приводят к уменьшению скорости реакции этилена с водородом.

- 1) понижение температуры
- 2) увеличение концентрации этилена
- 3) использование катализатора
- 4) уменьшение концентрации водорода
- 5) повышение давления в системе

Запишите в поле ответа номера выбранных внешних воздействий.

Ответ: 

--	--

- 21** Установите соответствие между формулой иона и окислительно-восстановительными свойствами, которые он способен проявлять: к каждой позиции, обозначенной буквой, подберите соответствующую позицию, обозначенную цифрой.

## ФОРМУЛА ИОНА

## ОКИСЛИТЕЛЬНО-ВОССТАНОВИТЕЛЬНЫЕ СВОЙСТВА

- |             |                                                        |
|-------------|--------------------------------------------------------|
| A) $H^+$    | 1) является только восстановителем                     |
| Б) $S^{2-}$ | 2) является и окислителем, и восстановителем           |
| В) $NO_2^-$ | 3) не проявляет окислительно-восстановительных свойств |
|             | 4) является только окислителем                         |

Запишите в таблицу выбранные цифры под соответствующими буквами.

Ответ:

А	Б	В

- 22** Установите соответствие между формулой соли и продуктами электролиза водного раствора этой соли, которые выделились на инертных электродах: к каждой позиции, обозначенной буквой, подберите соответствующую позицию, обозначенную цифрой.

ФОРМУЛА СОЛИ	ПРОДУКТЫ ЭЛЕКТРОЛИЗА
А) $\text{Na}_2\text{CO}_3$	1) металл и хлор
Б) $\text{AlCl}_3$	2) водород и кислород
В) $\text{NaCl}$	3) водород и азот
Г) $\text{NaNO}_3$	4) водород и хлор
	5) металл и кислород
	6) водород и углекислый газ

Запишите в таблицу выбранные цифры под соответствующими буквами.

Ответ:

А	Б	В	Г

- 23** Установите соответствие между названием соли и отношением этой соли к гидролизу: к каждой позиции, обозначенной буквой, подберите соответствующую позицию, обозначенную цифрой.

НАЗВАНИЕ СОЛИ	ОТНОШЕНИЕ К ГИДРОЛИЗУ
А) хлорид аммония	1) гидролизуется по катиону
Б) сульфат калия	2) гидролизуется по аниону
В) карбонат натрия	3) гидролизу не подвергается
Г) сульфид алюминия	4) гидролизуется по катиону и аниону

Запишите в таблицу выбранные цифры под соответствующими буквами.

Ответ:

А	Б	В	Г

- 24** Установите соответствие между уравнением обратимой реакции и направлением смещения химического равновесия при увеличении давления: к каждой позиции, обозначенной буквой, подберите соответствующую позицию, обозначенную цифрой.

УРАВНЕНИЕ РЕАКЦИИ	НАПРАВЛЕНИЕ СМЕЩЕНИЯ ХИМИЧЕСКОГО РАВНОВЕСИЯ
А) $\text{N}_{2(\text{r})} + 3\text{H}_{2(\text{r})} \rightleftharpoons 2\text{NH}_{3(\text{r})}$	1) смещается в сторону прямой реакции
Б) $2\text{H}_{2(\text{r})} + \text{O}_{2(\text{r})} \rightleftharpoons 2\text{H}_2\text{O}_{(\text{r})}$	2) смещается в сторону обратной реакции
В) $\text{H}_{2(\text{r})} + \text{Cl}_{2(\text{r})} \rightleftharpoons 2\text{HCl}_{(\text{r})}$	3) практически не смещается
Г) $\text{SO}_{2(\text{r})} + \text{Cl}_{2(\text{r})} \rightleftharpoons \text{SO}_2\text{Cl}_{2(\text{r})}$	

Запишите в таблицу выбранные цифры под соответствующими буквами.

Ответ:

А	Б	В	Г

- 25** Установите соответствие между двумя веществами, взятыми в виде водных растворов, и реактивом, с помощью которого можно различить эти вещества: к каждой позиции, обозначенной буквой, подберите соответствующую позицию, обозначенную цифрой.

ВЕЩЕСТВА	РЕАКТИВ
А) $\text{H}_2\text{SO}_4$ (разб.) и $\text{HNO}_3$ (разб.)	1) фенолфталеин
Б) $\text{AlCl}_3$ и $\text{KCl}$	2) $\text{CuCl}_2$
В) $\text{HCl}$ и $\text{HI}$	3) $\text{MgO}$
Г) $\text{ZnCl}_2$ и $\text{HgCl}_2$	4) лакмус
	5) $\text{Cu}$

Запишите в таблицу выбранные цифры под соответствующими буквами.

Ответ:

А	Б	В	Г

- 26** Установите соответствие между веществом и основной областью его применения: к каждой позиции, обозначенной буквой, подберите соответствующую позицию, обозначенную цифрой.

ВЕЩЕСТВО	ОБЛАСТЬ ПРИМЕНЕНИЯ
А) $\text{H}_2\text{O}_2$	1) в качестве отбеливателя
Б) $\text{C}_6\text{H}_5\text{-CH}_3$	2) в качестве удобрения
В) $\text{CH}_4$	3) в качестве топлива
	4) в качестве растворителя

Запишите в таблицу выбранные цифры под соответствующими буквами.

Ответ:

А	Б	В

**Ответом к заданиям 27–29 является число. Запишите это число в поле ответа в тексте работы, соблюдая при этом указанную степень точности. Затем перенесите это число в БЛАНК ОТВЕТОВ № 1 справа от номера соответствующего задания, начиная с первой клеточки. Каждый символ пишите в отдельной клеточке в соответствии с приведёнными в бланке образцами. Единицы измерения физических величин в бланке ответа указывать не нужно.**

- 27** Вычислите массу нитрата калия (в граммах), которую следует растворить в 150,0 г раствора с массовой долей этой соли 10% для получения раствора с массовой долей 12%. (Запишите число с точностью до десятых.)

Ответ: \_\_\_\_\_ г.

- 28** Какой объём водорода потребуется для полного гидрирования 5,6 л пропена? Объёмы газов измерены в одинаковых условиях. (Запишите число с точностью до десятых.)

Ответ: \_\_\_\_\_ л.

- 29** Вычислите массу кислорода (в граммах), необходимого для полного сжигания 6,72 л (н.у.) сероводорода. (Запишите число с точностью до десятых.)

Ответ: \_\_\_\_\_ г.



**Не забудьте перенести все ответы в бланк ответов № 1 в соответствии с инструкцией по выполнению работы. Проверьте, чтобы каждый ответ был записан в строке с номером соответствующего задания.**

## Часть 2

**Для записи ответов на задания 30–35 используйте БЛАНК ОТВЕТОВ № 2. Запишите сначала номер задания (30, 31 и т.д.), а затем его подробное решение. Ответы записывайте чётко и разборчиво.**

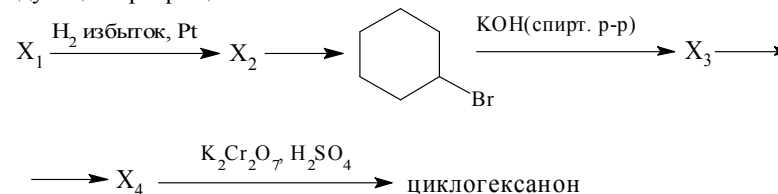
Для выполнения заданий 30, 31 используйте следующий перечень веществ: перманганат калия, гидрокарбонат натрия, сульфит натрия, сульфат бария, гидроксид калия, пероксид водорода. Допустимо использование водных растворов веществ.

- 30** Из предложенного перечня веществ выберите вещества, между которыми окислительно-восстановительная реакция протекает с изменением цвета раствора. Выделение осадка или газа в ходе этой реакции не наблюдается. В ответе запишите уравнение только одной из возможных окислительно-восстановительных реакций с участием выбранных веществ. Составьте электронный баланс, укажите окислитель и восстановитель.

- 31** Из предложенного перечня веществ выберите кислую соль и вещество, которое вступает с этой кислой солью в реакцию ионного обмена. Запишите молекулярное, полное и сокращённое ионные уравнения реакции с участием выбранных веществ.

- 32** При электролизе водного раствора нитрата меди(II) получили металл. Металл обработали концентрированной серной кислотой при нагревании. Выделившийся в результате газ прореагировал с сероводородом с образованием простого вещества. Это вещество нагрели с концентрированным раствором гидроксида калия. Напишите уравнения четырёх описанных реакций.

- 33** Напишите уравнения реакций, с помощью которых можно осуществить следующие превращения:



При написании уравнений реакций используйте структурные формулы органических веществ.



**34** При нагревании образца карбоната кальция часть вещества разложилась. При этом выделилось 4,48 л (н.у.) углекислого газа. Масса твёрдого остатка составила 41,2 г. Этот остаток добавили к 465,5 г раствора соляной кислоты, взятой в избытке. Определите массовую долю соли в полученном растворе. В ответе запишите уравнения реакций, которые указаны в условии задачи, и приведите все необходимые вычисления (указывайте единицы измерения искомых физических величин).

**35** При сгорании 40,95 г органического вещества получили 39,2 л углекислого газа (н.у.), 3,92 л азота (н.у.) и 34,65 г воды. При нагревании с соляной кислотой данное вещество подвергается гидролизу, продуктами которого являются соединения состава  $C_2H_6NO_2Cl$  и вторичный спирт. На основании данных условия задания:

- 1) проведите необходимые вычисления (указывайте единицы измерения искомых физических величин) и установите молекулярную формулу исходного органического вещества;
- 2) составьте структурную формулу этого вещества, которая однозначно отражает порядок связи атомов в его молекуле;
- 3) напишите уравнение гидролиза вещества в присутствии соляной кислоты (используйте структурные формулы органических веществ).



**Проверьте, чтобы каждый ответ был записан рядом с номером соответствующего задания.**

## Система оценивания экзаменационной работы по химии

### Часть 1

За правильный ответ на каждое из заданий 1–6, 11–15, 19–21, 26–29 ставится 1 балл.

Задание считается выполненным верно, если экзаменуемый дал правильный ответ в виде последовательности цифр или числа с заданной степенью точности.

Номер задания	Правильный ответ
1	14
2	135
3	45
4	13
5	413
6	13
11	214
12	25
13	24
14	34
15	25
19	34
20	14
21	412
26	143
27	3,4
28	5,6
29	14,4

Задания 7–10, 16–18, 22–25 считаются выполненными верно, если правильно указана последовательность цифр.

За полный правильный ответ заданий 7–10, 16–18, 22–25 ставится 2 балла; если допущена одна ошибка – 1 балл; за неверный ответ (более одной ошибки) или его отсутствие – 0 баллов.

Номер задания	Правильный ответ
7	14
8	3241
9	6621
10	43
16	5236
17	5135
18	24
22	2442
23	1324
24	1131
25	5425

## Часть 2

### Критерии оценивания заданий с развёрнутым ответом

За выполнение заданий 30, 31 ставится от 0 до 2 баллов; задания 35 – от 0 до 3 баллов; заданий 32 и 34 – от 0 до 4 баллов; задания 33 – от 0 до 5 баллов.

Для выполнения заданий 30, 31 используйте следующий перечень веществ: перманганат калия, гидрокарбонат натрия, сульфит натрия, сульфат бария, гидроксид калия, пероксид водорода. Допустимо использование водных растворов веществ.

- 30** Из предложенного перечня веществ выберите вещества, между которыми окислительно-восстановительная реакция протекает с изменением цвета раствора. Выделение осадка или газа в ходе этой реакции не наблюдается. В ответе запишите уравнение только одной из возможных окислительно-восстановительных реакций с участием выбранных веществ. Составьте электронный баланс, укажите окислитель и восстановитель.

Содержание верного ответа и указания по оцениванию (допускаются иные формулировки ответа, не искажающие его смысла)	Баллы
Вариант ответа: $\text{Na}_2\text{SO}_3 + 2\text{KMnO}_4 + 2\text{KOH} = \text{Na}_2\text{SO}_4 + 2\text{K}_2\text{MnO}_4 + \text{H}_2\text{O}$ $\begin{array}{l} 2 \text{ Mn}^{+7} + \bar{e} \rightarrow \text{Mn}^{+6} \\ 1 \text{ S}^{+4} - 2\bar{e} \rightarrow \text{S}^{+6} \end{array}$ Сульфит натрия (или сера в степени окисления +4) является восстановителем. Перманганат калия (или марганец в степени окисления +7) – окислителем	
Ответ правильный и полный, содержит следующие элементы: <ul style="list-style-type: none"> <li>• выбраны вещества, и записано уравнение окислительно-восстановительной реакции;</li> <li>• составлен электронный баланс, указаны окислитель и восстановитель</li> </ul>	2
Правильно записан один элемент ответа	1
Все элементы ответа записаны неверно	0
<i>Максимальный балл</i>	2

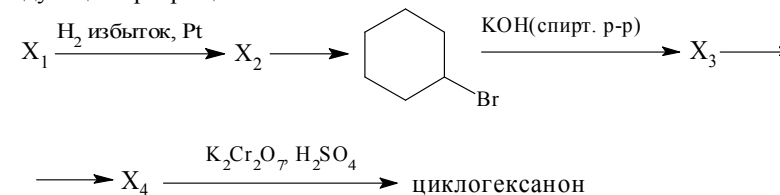
- 31 Из предложенного перечня веществ выберите кислую соль и вещество, которое вступает с этой кислотной солью в реакцию ионного обмена. Запишите молекулярное, полное и сокращённое ионные уравнения реакции с участием выбранных веществ.

Содержание верного ответа и указания по оцениванию (допускаются иные формулировки ответа, не искажающие его смысла)	Баллы
Вариант ответа: $2\text{NaHCO}_3 + 2\text{KOH} = \text{Na}_2\text{CO}_3 + \text{K}_2\text{CO}_3 + 2\text{H}_2\text{O}$ $2\text{Na}^+ + 2\text{HCO}_3^- + 2\text{K}^+ + 2\text{OH}^- = 2\text{Na}^+ + 2\text{K}^+ + 2\text{CO}_3^{2-} + 2\text{H}_2\text{O}$ $\text{HCO}_3^- + \text{OH}^- = \text{CO}_3^{2-} + \text{H}_2\text{O}$	
Ответ правильный и полный, содержит следующие элементы: <ul style="list-style-type: none"> <li>• выбраны вещества, и записано молекулярное уравнение реакции ионного обмена;</li> <li>• записаны полное и сокращённое ионные уравнения реакций</li> </ul>	2
Правильно записан один элемент ответа	1
Все элементы ответа записаны неверно	0
<i>Максимальный балл</i>	2

- 32 При электролизе водного раствора нитрата меди(II) получили металл. Металл обработали концентрированной серной кислотой при нагревании. Выделившийся в результате газ прореагировал с сероводородом с образованием простого вещества. Это вещество нагрели с концентрированным раствором гидроксида калия. Напишите уравнения четырёх описанных реакций.

Содержание верного ответа и указания по оцениванию (допускаются иные формулировки ответа, не искажающие его смысла)	Баллы
Вариант ответа: 1) $2\text{Cu}(\text{NO}_3)_2 + 2\text{H}_2\text{O} = 2\text{Cu} + 4\text{HNO}_3 + \text{O}_2$ (электролиз) 2) $\text{Cu} + 2\text{H}_2\text{SO}_{4(\text{конц.})} = \text{CuSO}_4 + \text{SO}_2\uparrow + 2\text{H}_2\text{O}$ 3) $\text{SO}_2 + 2\text{H}_2\text{S} = 3\text{S} + 2\text{H}_2\text{O}$ 4) $3\text{S} + 6\text{KOH} = 2\text{K}_2\text{S} + \text{K}_2\text{SO}_3 + 3\text{H}_2\text{O}$ (возможно образование $\text{K}_2\text{S}_2\text{O}_3$ )	
Правильно записаны четыре уравнения реакций	4
Правильно записаны три уравнения реакций	3
Правильно записаны два уравнения реакций	2
Правильно записано одно уравнение реакции	1
Все уравнения реакций записаны неверно	0
<i>Максимальный балл</i>	4

- 33 Напишите уравнения реакций, с помощью которых можно осуществить следующие превращения:



При написании уравнений реакций используйте структурные формулы органических веществ.

Содержание верного ответа и указания по оцениванию (допускаются иные формулировки ответа, не искажающие его смысла)	Баллы
Вариант ответа: Написаны пять уравнений реакций, соответствующих схеме превращений:	
1) 	
2) 	
3) 	
4) 	
5) 	
Правильно записаны пять уравнений реакций	5
Правильно записаны четыре уравнения реакций	4
Правильно записаны три уравнения реакций	3
Правильно записаны два уравнения реакций	2
Правильно записано одно уравнение реакции	1
Все уравнения реакций записаны неверно	0
<i>Максимальный балл</i>	5

*Примечание.* Допустимо использование структурных формул разного вида (развёрнутой, сокращённой, скелетной), однозначно отражающих порядок связи атомов и взаимное расположение заместителей и функциональных групп в молекуле органического вещества.

- 34** При нагревании образца карбоната кальция часть вещества разложилась. При этом выделилось 4,48 л (н.у.) углекислого газа. Масса твёрдого остатка составила 41,2 г. Этот остаток добавили к 465,5 г раствора соляной кислоты, взятой в избытке. Определите массовую долю соли в полученном растворе. В ответе запишите уравнения реакций, которые указаны в условии задачи, и приведите все необходимые вычисления (указывайте единицы измерения искомых физических величин).

Содержание верного ответа и указания по оцениванию (допускаются иные формулировки ответа, не искажающие его смысла)	Баллы
<p>Вариант ответа:            Записаны уравнения реакций:  <math>\text{CaCO}_3 = \text{CaO} + \text{CO}_2</math>  <math>\text{CaCO}_3 + 2\text{HCl} = \text{CaCl}_2 + \text{CO}_2\uparrow + \text{H}_2\text{O}</math>  <math>\text{CaO} + 2\text{HCl} = \text{CaCl}_2 + \text{H}_2\text{O}</math></p> <p>Рассчитано количество вещества соединений в твёрдом остатке:  <math>n(\text{CO}_2) = V / V_m = 4,48 / 22,4 = 0,2</math> моль  <math>n(\text{CaO}) = n(\text{CO}_2) = 0,2</math> моль  <math>m(\text{CaO}) = n \cdot M = 0,2 \cdot 56 = 11,2</math> г  <math>m(\text{CaCO}_3 \text{ остаток}) = 41,2 - 11,2 = 30</math> г  <math>n(\text{CaCO}_3 \text{ остаток}) = m / M = 30 / 100 = 0,3</math> моль</p> <p>Вычислена масса соли в полученном растворе:  <math>n(\text{CaCl}_2) = n(\text{CaO}) + n(\text{CaCO}_3) = 0,5</math> моль  <math>m(\text{CaCl}_2) = n \cdot M = 0,5 \cdot 111 = 55,5</math> г  <math>n(\text{CO}_2) = n(\text{CaCO}_3 \text{ остаток}) = 0,3</math> моль  <math>m(\text{CO}_2) = n \cdot M = 0,3 \cdot 44 = 13,2</math> г</p> <p>Вычислена массовая доля хлорида кальция в растворе:  <math>m(\text{p-pa}) = 41,2 + 465,5 - 13,2 = 493,5</math> г  <math>\omega(\text{CaCl}_2) = m(\text{CaCl}_2) / m(\text{p-pa}) = 55,5 / 493,5 = 0,112</math>, или 11,2%</p>	

Ответ правильный и полный, содержит следующие элементы: <ul style="list-style-type: none"> <li>• правильно записаны уравнения реакций, соответствующих условию задания;</li> <li>• правильно произведены вычисления, в которых используются необходимые физические величины, заданные в условии задания;</li> <li>• продемонстрирована логически обоснованная взаимосвязь физических величин, на основании которых проводятся расчёты;</li> <li>• в соответствии с условием задания определена искомая физическая величина</li> </ul>	4
Правильно записаны три элемента ответа	3
Правильно записаны два элемента ответа	2
Правильно записан один элемент ответа	1
Все элементы ответа записаны неверно	0
<i>Максимальный балл</i>	4

*Примечание.* В случае, когда в ответе содержится ошибка в вычислениях, которая привела к неверному ответу, оценка за выполнение задания снижается только на 1 балл.

- 35** При сгорании 40,95 г органического вещества получили 39,2 л углекислого газа (н.у.), 3,92 л азота (н.у.) и 34,65 г воды. При нагревании с соляной кислотой данное вещество подвергается гидролизу, продуктами которого являются соединение состава  $\text{C}_2\text{H}_6\text{NO}_2\text{Cl}$  и вторичный спирт. На основании данных условия задания:  
 1) проведите необходимые вычисления (указывайте единицы измерения искомых физических величин) и установите молекулярную формулу исходного органического вещества;  
 2) составьте структурную формулу этого вещества, которая однозначно отражает порядок связи атомов в его молекуле;  
 3) напишите уравнение гидролиза вещества в присутствии соляной кислоты (используйте структурные формулы органических веществ).

Содержание верного ответа и указания по оцениванию (допускаются иные формулировки ответа, не искажающие его смысла)	Баллы
<p>Вариант ответа:</p> <p>Проведены вычисления, и найдена молекулярная формула исходного органического вещества:  <math>n(\text{CO}_2) = 39,2 / 22,4 = 1,75</math> моль; <math>n(\text{C}) = 1,75</math> моль  <math>n(\text{H}_2\text{O}) = 34,65 / 18 = 1,925</math> моль; <math>n(\text{H}) = 1,925 \cdot 2 = 3,85</math> моль  <math>n(\text{N}_2) = 3,92 / 22,4 = 0,175</math> моль; <math>n(\text{N}) = 0,175 \cdot 2 = 0,35</math> моль  <math>m(\text{C} + \text{H} + \text{N}) = 1,75 \cdot 12 + 3,85 \cdot 1 + 0,35 \cdot 14 = 29,75</math> г  <math>m(\text{O}) = 40,95 - 29,75 = 11,2</math> г  <math>n(\text{O}) = 11,2 / 16 = 0,7</math> моль  <math>n(\text{C}) : n(\text{H}) : n(\text{N}) : n(\text{O}) = 1,75 : 3,85 : 0,35 : 0,7 = 5 : 11 : 1 : 2</math>            Молекулярная формула – <math>\text{C}_5\text{H}_{11}\text{NO}_2</math></p> <p>Составлена структурная формула вещества:</p> $\begin{array}{c} \text{O} \\ \parallel \\ \text{NH}_2-\text{CH}_2-\text{C}-\text{O}-\text{CH}-\text{CH}_3 \\   \\ \text{CH}_3 \end{array}$ <p>Написано уравнение гидролиза вещества:</p> $\begin{array}{c} \text{O} \\ \parallel \\ \text{NH}_2-\text{CH}_2-\text{C}-\text{O}-\text{CH}-\text{CH}_3 \\   \\ \text{CH}_3 \end{array} + \text{H}_2\text{O} + \text{HCl} \longrightarrow \text{C}[\text{H}_3\text{N}-\text{CH}_2-\text{COOH}] + \begin{array}{c} \text{OH} \\   \\ \text{CH}_3-\text{CH}-\text{CH}_3 \end{array}$	
<p>Ответ правильный и полный, содержит следующие элементы:</p> <ul style="list-style-type: none"> <li>• правильно произведены вычисления, необходимые для установления молекулярной формулы вещества, и записана молекулярная формула вещества;</li> <li>• записана структурная формула органического вещества, которая отражает порядок связи и взаимное расположение заместителей и функциональных групп в молекуле в соответствии с условием задания;</li> <li>• с использованием структурной формулы органического вещества записано уравнение реакции, на которую даётся указание в условии задания</li> </ul>	3
Правильно записаны два элемента ответа	2
Правильно записан один элемент ответа	1
Все элементы ответа записаны неверно	0
<i>Максимальный балл</i>	3

В соответствии с Порядком проведения государственной итоговой аттестации по образовательным программам среднего общего образования (приказ Минпросвещения России и Рособрандзора от 07.11.2018 № 190/1512, зарегистрирован Минюстом России 10.12.2018 № 52952)

«82. <...> По результатам первой и второй проверок эксперты независимо друг от друга выставляют баллы за каждый ответ на задания экзаменационной работы ЕГЭ с развернутым ответом. <...>

В случае существенного расхождения в баллах, выставленных двумя экспертами, назначается третья проверка. Существенное расхождение в баллах определено в критериях оценивания по соответствующему учебному предмету.

Эксперту, осуществляющему третью проверку, предоставляется информация о баллах, выставленных экспертами, ранее проверявшими экзаменационную работу».

Существенным считается расхождение между баллами, выставленными первым и вторым экспертами, в 2 или более балла за выполнение любого из заданий 30–35. В этом случае третий эксперт проверяет только те ответы на задания, которые вызвали столь существенное расхождение.

### РАСТВОРИМОСТЬ КИСЛОТ, СОЛЕЙ И ОСНОВАНИЙ В ВОДЕ

	H <sup>+</sup>	Li <sup>+</sup>	K <sup>+</sup>	Na <sup>+</sup>	NH <sub>4</sub> <sup>+</sup>	Ba <sup>2+</sup>	Ca <sup>2+</sup>	Mg <sup>2+</sup>	Sr <sup>2+</sup>	Al <sup>3+</sup>	Cr <sup>3+</sup>	Fe <sup>2+</sup>	Fe <sup>3+</sup>	Mn <sup>2+</sup>	Zn <sup>2+</sup>	Ag <sup>+</sup>	Hg <sup>2+</sup>	Pb <sup>2+</sup>	Sn <sup>2+</sup>	Cu <sup>2+</sup>
OH <sup>-</sup>		P	P	P	P	P	M	H	M	H	H	H	H	H	H	–	–	H	H	H
F <sup>-</sup>	P	M	P	P	P	M	H	H	H	M	H	H	H	P	P	P	–	H	P	P
Cl <sup>-</sup>	P	P	P	P	P	P	P	P	P	P	P	P	P	P	P	H	P	M	P	P
Br <sup>-</sup>	P	P	P	P	P	P	P	P	P	P	P	P	P	P	P	H	M	M	P	P
I <sup>-</sup>	P	P	P	P	P	P	P	P	P	P	?	P	?	P	P	H	H	H	M	?
S <sup>2-</sup>	P	P	P	P	P	–	–	–	H	–	–	H	–	H	H	H	H	H	H	H
HS <sup>-</sup>	P	P	P	P	P	P	P	P	P	?	?	?	?	?	?	?	?	?	?	?
SO <sub>3</sub> <sup>2-</sup>	P	P	P	P	P	H	H	M	H	?	–	H	?	?	M	H	H	H	?	?
SO <sub>4</sub> <sup>2-</sup>	P	P	P	P	P	H	M	P	H	P	P	P	P	P	P	M	–	H	P	P
HSO <sub>4</sub> <sup>-</sup>	P	P	P	P	P	?	?	?	–	?	?	?	?	?	?	?	?	H	?	?
NO <sub>3</sub> <sup>-</sup>	P	P	P	P	P	P	P	P	P	P	P	P	P	P	P	P	P	P	–	P
NO <sub>2</sub> <sup>-</sup>	P	P	P	P	P	P	P	P	P	?	?	?	?	?	?	M	?	?	?	?
PO <sub>4</sub> <sup>3-</sup>	P	H	P	P	–	H	H	H	H	H	H	H	H	H	H	H	H	H	H	H
HPO <sub>4</sub> <sup>2-</sup>	P	?	P	P	P	H	H	M	H	?	?	H	?	H	?	?	?	M	H	?
H <sub>2</sub> PO <sub>4</sub> <sup>-</sup>	P	P	P	P	P	P	P	P	P	?	?	P	?	P	P	P	?	–	?	?
CO <sub>3</sub> <sup>2-</sup>	P	P	P	P	P	H	H	H	H	?	?	H	–	H	H	H	H	H	?	H
HCO <sub>3</sub> <sup>-</sup>	P	P	P	P	P	P	P	P	P	?	?	P	?	?	?	?	?	P	?	?
CH <sub>3</sub> COO <sup>-</sup>	P	P	P	P	P	P	P	P	P	–	P	P	–	P	P	P	P	P	–	P
SiO <sub>3</sub> <sup>2-</sup>	H	H	P	P	?	H	H	H	H	?	?	H	?	H	H	?	?	H	?	?
MnO <sub>4</sub> <sup>-</sup>	P	P	P	P	P	P	P	P	P	P	?	?	?	?	P	?	?	?	?	?
Cr <sub>2</sub> O <sub>7</sub> <sup>2-</sup>	P	P	P	P	P	M	P	?	H	?	?	?	P	?	?	H	H	M	?	P
CrO <sub>4</sub> <sup>2-</sup>	P	P	P	P	P	H	P	P	H	?	?	?	H	H	H	H	H	H	H	H
ClO <sub>3</sub> <sup>-</sup>	P	P	P	P	P	P	P	P	P	P	P	?	?	P	P	P	P	P	?	P
ClO <sub>4</sub> <sup>-</sup>	P	P	P	P	P	P	P	P	P	P	P	P	P	P	P	P	P	P	?	P

«P» – растворяется (> 1 г на 100 г H<sub>2</sub>O);

«M» – мало растворяется (от 0,1 г до 1 г на 100 г H<sub>2</sub>O)

«H» – не растворяется (меньше 0,01 г на 1000 г воды);

«←» – в водной среде разлагается

«?» – нет достоверных сведений о существовании соединений

### РЯД АКТИВНОСТИ МЕТАЛЛОВ / ЭЛЕКТРОХИМИЧЕСКИЙ РЯД НАПРЯЖЕНИЙ

Li Rb K Ba Sr Ca Na Mg Al Mn Zn Cr Fe Cd Co Ni Sn Pb (H<sub>2</sub>) Sb Bi Cu Hg Ag Pt Au

активность металлов уменьшается →

## Периодическая система химических элементов Д.И. Менделеева

		Г р у п п ы											
		I	II	III	IV	V	VI	VII	VIII				
П е р и о д ы	1	1 <b>H</b> 1,008 Водород						(H)					2 <b>He</b> 4,00 Гелий
	2	3 <b>Li</b> 6,94 Литий	4 <b>Be</b> 9,01 Бериллий	5 10,81 <b>B</b> Бор	6 12,01 <b>C</b> Углерод	7 14,00 <b>N</b> Азот	8 16,00 <b>O</b> Кислород	9 19,00 <b>F</b> Фтор					10 <b>Ne</b> 20,18 Неон
	3	11 <b>Na</b> 22,99 Натрий	12 <b>Mg</b> 24,31 Магний	13 26,98 <b>Al</b> Алюминий	14 28,09 <b>Si</b> Кремний	15 30,97 <b>P</b> Фосфор	16 32,06 <b>S</b> Сера	17 35,45 <b>Cl</b> Хлор					18 <b>Ar</b> 39,95 Аргон
	4	19 <b>K</b> 39,10 Калий	20 <b>Ca</b> 40,08 Кальций	21 <b>Sc</b> 44,96 Скандий	22 <b>Ti</b> 47,90 Титан	23 <b>V</b> 50,94 Ванадий	24 <b>Cr</b> 52,00 Хром	25 <b>Mn</b> 54,94 Марганец	26 <b>Fe</b> 55,85 Железо	27 <b>Co</b> 58,93 Кобальт	28 <b>Ni</b> 58,69 Никель		
		29 63,55 <b>Cu</b> Медь	30 65,39 <b>Zn</b> Цинк	31 69,72 <b>Ga</b> Галлий	32 72,59 <b>Ge</b> Германий	33 74,92 <b>As</b> Мышьяк	34 78,96 <b>Se</b> Селен	35 79,90 <b>Br</b> Бром					36 <b>Kr</b> 83,80 Криптон
	5	37 <b>Rb</b> 85,47 Рубидий	38 <b>Sr</b> 87,62 Стронций	39 <b>Y</b> 88,91 Иттрий	40 <b>Zr</b> 91,22 Цирконий	41 <b>Nb</b> 92,91 Ниобий	42 <b>Mo</b> 95,94 Молибден	43 <b>Tc</b> 98,91 Технеций	44 <b>Ru</b> 101,07 Рутений	45 <b>Rh</b> 102,91 Родий	46 <b>Pd</b> 106,42 Палладий		
		47 107,87 <b>Ag</b> Серебро	48 112,41 <b>Cd</b> Кадмий	49 114,82 <b>In</b> Индий	50 118,69 <b>Sn</b> Олово	51 121,75 <b>Sb</b> Сурьма	52 127,60 <b>Te</b> Теллур	53 126,90 <b>I</b> Иод					54 <b>Xe</b> 131,29 Ксенон
	6	55 <b>Cs</b> 132,91 Цезий	56 <b>Ba</b> 137,33 Барий	57 <b>La</b> * 138,91 Лантан	72 <b>Hf</b> 178,49 Гафний	73 <b>Ta</b> 180,95 Тантал	74 <b>W</b> 183,85 Вольфрам	75 <b>Re</b> 186,21 Рений	76 <b>Os</b> 190,2 Осмий	77 <b>Ir</b> 192,22 Иридий	78 <b>Pt</b> 195,08 Платина		
		79 196,97 <b>Au</b> Золото	80 200,59 <b>Hg</b> Ртуть	81 204,38 <b>Tl</b> Таллий	82 207,2 <b>Pb</b> Свинец	83 208,98 <b>Bi</b> Висмут	84 [209] <b>Po</b> Полоний	85 [210] <b>At</b> Астат					86 <b>Rn</b> [222] Радон
	7	87 <b>Fr</b> [223] Франций	88 <b>Ra</b> 226 Радий	89 <b>Ac</b> ** [227] Актиний	104 <b>Rf</b> [261] Резерфордий	105 <b>Db</b> [262] Дубний	106 <b>Sg</b> [266] Сиборгий	107 <b>Bh</b> [264] Борий	108 <b>Hs</b> [269] Хассий	109 <b>Mt</b> [268] Мейтнерий	110 <b>Ds</b> [271] Дармштадтий		
		111 [280] <b>Rg</b> Рентгений	112 [285] <b>Cn</b> Коперниций	113 [286] <b>Nh</b> Нихоний	114 [289] <b>Fl</b> Флеровий	115 [290] <b>Mc</b> Московский	116 [293] <b>Lv</b> Ливерморий	117 [294] <b>Ts</b> Теннесси					118 <b>Og</b> [294] Оганесон

### \* Лантаноиды

58 <b>Ce</b> 140 Церий	59 <b>Pr</b> 141 Празеодим	60 <b>Nd</b> 144 Неодим	61 <b>Pm</b> [145] Прометий	62 <b>Sm</b> 150 Самарий	63 <b>Eu</b> 152 Европий	64 <b>Gd</b> 157 Гадолиний	65 <b>Tb</b> 159 Тербий	66 <b>Dy</b> 162,5 Диспрозий	67 <b>Ho</b> 165 Гольмий	68 <b>Er</b> 167 Эрбий	69 <b>Tm</b> 169 Тулий	70 <b>Yb</b> 173 Иттербий	71 <b>Lu</b> 175 Лютеций
------------------------------	----------------------------------	-------------------------------	-----------------------------------	--------------------------------	--------------------------------	----------------------------------	-------------------------------	------------------------------------	--------------------------------	------------------------------	------------------------------	---------------------------------	--------------------------------

### \*\* Актиноиды

90 <b>Th</b> 232 Торий	91 <b>Pa</b> 231 Протактиний	92 <b>U</b> 238 Уран	93 <b>Np</b> 237 Нептуний	94 <b>Pu</b> [244] Плутоний	95 <b>Am</b> [243] Америций	96 <b>Cm</b> [247] Кюрий	97 <b>Bk</b> [247] Берклий	98 <b>Cf</b> [251] Калифорний	99 <b>Es</b> [252] Эйнштейний	100 <b>Fm</b> [257] Фермий	101 <b>Md</b> [258] Менделеевий	102 <b>No</b> [259] Нобелий	103 <b>Lr</b> [262] Лоуренсий
------------------------------	------------------------------------	----------------------------	---------------------------------	-----------------------------------	-----------------------------------	--------------------------------	----------------------------------	-------------------------------------	-------------------------------------	----------------------------------	---------------------------------------	-----------------------------------	-------------------------------------